

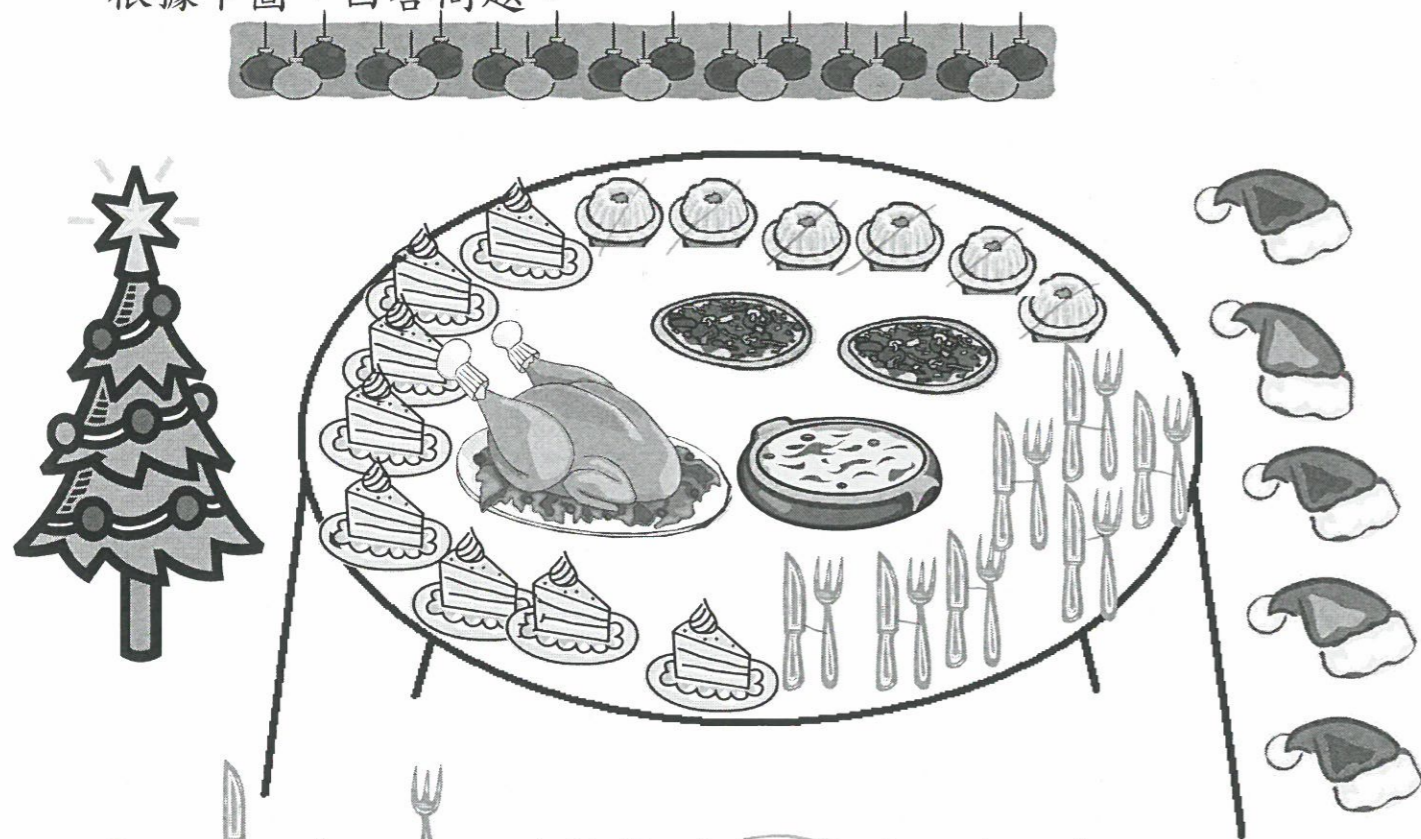
審題技巧(2)

觀察及分析資料

積分: 14/14 7-10-2022


日期: 6-10-2022

小詩邀請了同學到她家慶祝聖誕節，她預備了很多食物。
根據下圖，回答問題。



1.  與  的數量 (相同 / 不相同)。


2.  的數量是 (奇數 / 偶數)。

3.  和  的數量都是 (奇數 / 偶數)。

4.  比  (多 / 少) 1 件。

5.  比  (多 / 少) 2 個。

小詩的朋友在門外等候，正準備進入她的家。



1. 有 6 人在門外等候，正準備進入小詩的家。

2. 小花排第一，小智排第 3。

3. 小盈與小鋒之間有 2 人。

4. 請在上圖中圈出排最後的小朋友，他排第 6。

5. 在小敏前面有 3 人，在她後面有 2 人。

6. 小花 會最快進入小詩的家，因她排第 1。

7. 小敏 拿着一朵花，她排第 4。

8. 小軒和小玲因事不能前來，
那麼，小詩原本邀請了 8 位朋友前來。

9. 如你也想入小詩的家，你將會排在第 7 位。