

審題技巧(1)

積分: _____




選取合適資料

日期: 27-11-2023

1. 哥哥有糖果 11 粒，妹妹有糖果 7 粒，
弟弟有糖果 6 粒，哥哥比弟弟多糖果多少粒？

$\begin{array}{r} 11-6 \\ \hline 5 \end{array}$	直式 $\begin{array}{r} 11 \\ -6 \\ \hline 5 \end{array}$
∴ 哥哥比弟弟多糖果 5 粒	

2. 麥丁丁快餐店 價目表

食物	售價
魚柳包 	\$12
漢堡飽  ✓	\$9
薯條  ✓	\$6
蘋果批 	\$5

小美到麥丁丁快餐店買食物，她買了一個漢堡飽和一包薯條，需付多少元？

$\begin{array}{r} 9+6 \\ \hline 15 \end{array}$	直式 $\begin{array}{r} 9 \\ +6 \\ \hline 15 \end{array}$
∴ 需付 15 元	

3. 小花園有太陽花 6 朵，黃玫瑰花 7 朵，
紅玫瑰花 8 朵，小花園有玫瑰花多少朵？

$\begin{array}{r} 7+8 \\ \hline 15 \end{array}$	直式 $\begin{array}{r} 7 \\ +8 \\ \hline 15 \end{array}$
∴ 小花園有玫瑰花 15 朵	





4.

海心樂園入場券 

小童 ✓	\$6
學生 ✓	\$8
成人 ✓	\$10
長者	\$7

小麗是一位學生，她和爸爸、媽媽星期日到
海心樂園遊玩，她們一家共需付多少元？

$\begin{array}{r} 8+10+10 \\ \hline 28 \end{array}$	直式 $\begin{array}{r} 8 \\ +10 \\ \hline 28 \end{array}$
∴ 她們一家共需付 28 元	

5.  原子筆 \$10  直尺 \$8  橡皮擦 \$6  鉛筆一套 \$13

小玲有 15 元，她選購了以上兩款文具。

a) 小玲選購了 <u>直尺</u> 和 <u>橡皮擦</u> 。
b) 店主應找回 <u>1</u> 元給小玲。